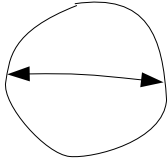




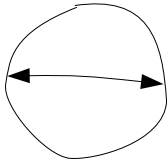
Combien de diamètres?



Combien de diamètres du cercle faut-il pour en faire le tour (son périmètre) ?



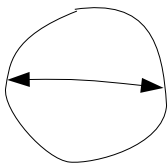
Combien de diamètres?



Combien de diamètres du cercle faut-il pour en faire le tour (son périmètre) ?



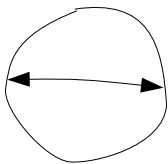
Combien de diamètres?



Combien de diamètres du cercle faut-il pour en faire le tour (son périmètre) ?



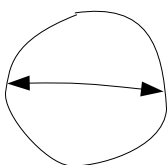
Combien de diamètres?



Combien de diamètres du cercle faut-il pour en faire le tour (son périmètre) ?



Combien de diamètres?



Combien de diamètres du cercle faut-il pour en faire le tour (son périmètre) ?