

# Des constructions à contraintes

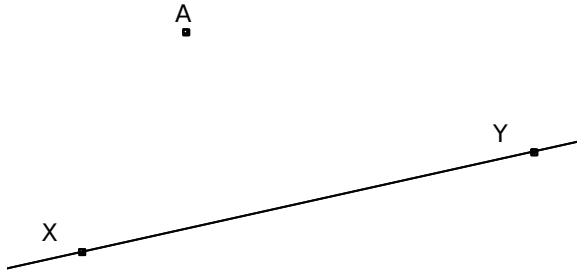
Légende :

R : règle non graduée

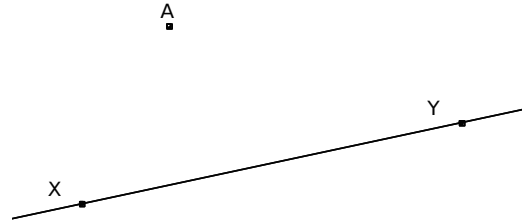
É : équerre

C : compas

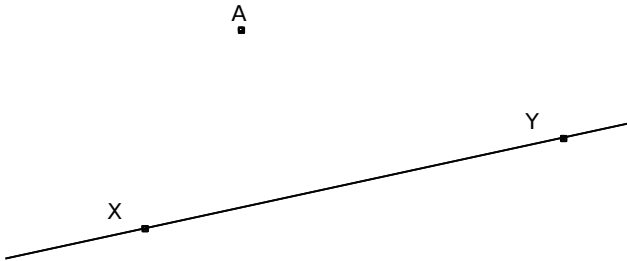
**RÉ.** Trace la perpendiculaire à la droite (XY) qui passe par le point A.



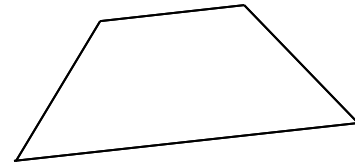
**RC.** Trace la perpendiculaire à la droite (XY) qui passe par le point A.



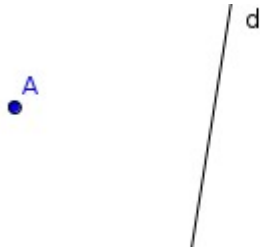
**RC.** Trace la parallèle à la droite (XY) qui passe par le point A.



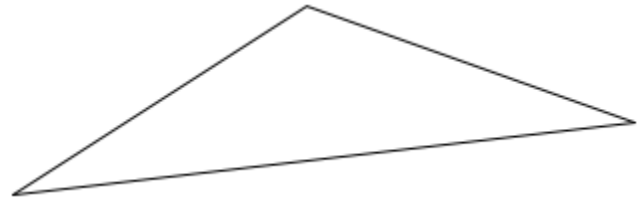
**R.** Trouve l'axe de symétrie du trapèze isocèle.



**C.** Construis le symétrique du point A par rapport à la droite d.



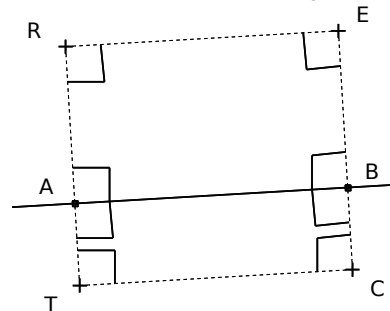
**RÉ.** Trouve l'axe de symétrie du triangle isocèle.




**C.** Construis le symétrique du point A par rapport au point O.



**R.** Construis la médiatrice du segment [AB], sachant que ABER et ABCT sont des rectangles.



**RÉ.** Retrouve le centre du cercle.



**RÉ.** Construis le milieu du segment [AB].

